

Modèle CCYC : ©DNE

Nom de famille (naissance) :
(Suivi s'il y a lieu, du nom d'usage)

Prénom(s) :

N° candidat :

N° d'inscription :



Né(e) le :

(Les numéros figurent sur la convocation.)

1.1

ÉVALUATION

CLASSE : Première

VOIE : ☒ Générale ☐ Technologique ☐ Toutes voies (LV)

ENSEIGNEMENT : physique-chimie

DURÉE DE L'ÉPREUVE : 2 h

CALCULATRICE AUTORISÉE : ☒ Oui ☐ Non

☐ Ce sujet contient des parties à rendre par le candidat avec sa copie. De ce fait, il ne peut être dupliqué et doit être imprimé pour chaque candidat afin d'assurer ensuite sa bonne numérisation.

Nombre total de pages : 7

PARTIE A

Réalisation d'une végétation métallique (10 points)

En chimie, une végétation métallique est un type de dendrites produites par certaines transformations chimiques. La découverte de ces « feuillages métalliques » est attribuée à des alchimistes au Moyen-Age, qui croyaient y voir un phénomène magique. L'alchimie, malgré son statut de pseudoscience (c'est à dire de « fausse » science), a eu un rôle important dans le développement, au cours du XVIII^e siècle, de la chimie en tant que discipline scientifique s'appuyant sur des faits expérimentaux.


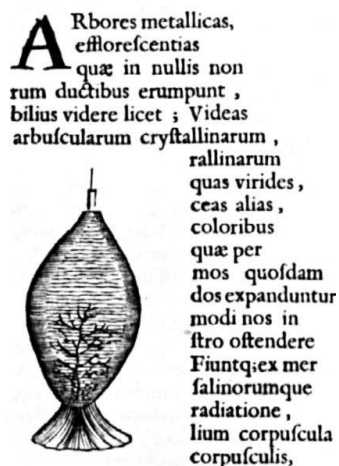
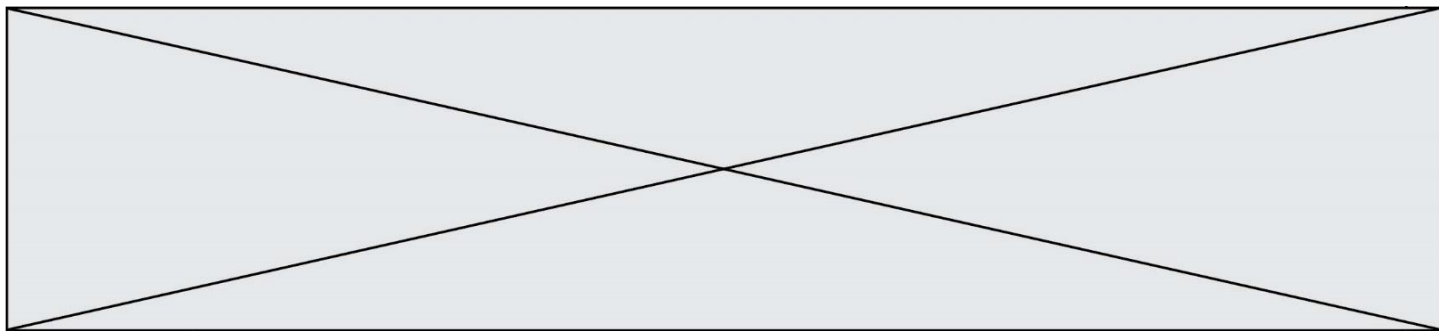


Figure 1. Un des premières publications d'une végétation chimique par Athanase Kircher, dans Mundus subterraneus en 1660 (d'après : [wikipedia.org/Athanasius-Kircher-Mundus-subterraneus.jpg](https://wikipedia.org/wiki/Athanasius_Kircher_Mundus_subterraneus))



On s'intéresse dans cet exercice à la modélisation du phénomène de « végétations métalliques » à l'aide des outils de la chimie moderne, en s'interrogeant notamment sur la nature de ce métal qui se dépose comme les feuilles d'un arbre.

Données :

- Couples oxydant/réducteur
 - couple ion argent/argent : Ag^+/Ag ;
 - couple ion cuivre/cuivre : Cu^{2+}/Cu .
- Couleurs des solutions aqueuses :
 - les ions cuivre $\text{Cu}^{2+}(\text{aq})$ donnent une couleur bleue aux solutions aqueuses ;
 - les ions argent $\text{Ag}^+(\text{aq})$ et les ions nitrate $\text{NO}_3^-(\text{aq})$ sont incolores en solution aqueuse.
- Masses molaires atomiques :
 $M(\text{Cu}) = 63,5 \text{ g/mol}$, $M(\text{O}) = 16,0 \text{ g/mol}$, $M(\text{Ag}) = 107,9 \text{ g/mol}$, $M(\text{N}) = 14,0 \text{ g/mol}$.
- Électronégativités selon l'échelle de Pauling : O : 3,2 , C : 2,6 , H : 2,2.

Les alchimistes décrivent l'arbre de Diane comme une végétation d'argent se déposant sur un tronc fait en cuivre.

On souhaite fabriquer un arbre de Diane au laboratoire. Pour ce faire, on place un fil de cuivre, de masse initiale $m' = 5,6 \text{ g}$ dans un bécher contenant $V = 220 \text{ mL}$ d'une solution de nitrate d'argent à la concentration en quantité de matière égale à $c = 0,10 \text{ mol.L}^{-1}$.

1. Préparation de la solution métallique pour réaliser l'arbre de Diane

Pour les chimistes, l'eau est un solvant très utilisé. Ses propriétés sont utilisées dans la réalisation de la végétation métallique car l'eau est capable de dissoudre le nitrate d'argent $\text{AgNO}_3 (\text{s})$ et les autres ions intervenant dans le phénomène.

- 1.1. Donner le schéma de Lewis d'une molécule d'eau, justifier sa forme coudée et indiquer ses propriétés en lien avec les électronégativités des atomes qui la constituent.
- 1.2. Écrire l'équation de la réaction modélisant la dissolution du nitrate d'argent dans l'eau. Préciser l'état physique des différentes espèces chimiques.
- 1.3. On note c la concentration en quantité de matière apportée en nitrate d'argent dans une solution. Exprimer, en fonction de c , la concentration en ions argent dissous $[\text{Ag}^+]$, si la dissolution est totale.
- 1.4. En déduire la quantité de matière n d'ions argent Ag^+ contenue dans 250 mL de la solution de nitrate d'argent de concentration $c = 0,10 \text{ mol.L}^{-1}$ et indiquer la masse m de nitrate d'argent nécessaire pour préparer cette solution.
- 1.5. Proposer un protocole pour préparer cette solution avec le matériel et les éléments de verrerie usuels au laboratoire, dont on précisera le nom et le volume si nécessaire.

2. Modélisation de la transformation chimique intervenant dans l'arbre de Diane

Modèle CCYC : ©DNE

Nom de famille (naissance) :


(Suivi s'il y a lieu, du nom d'usage)

Prénom(s) :

N° candidat : N° d'inscription :

(Les numéros figurent sur la convocation.)

Né(e) le :

 Liberté • Égalité • Fraternité
RÉPUBLIQUE FRANÇAISE

1.1

On réalise l'expérience, et on prend en photos le système chimique dans son état initial et dans son état final. Dans l'état initial, la solution est incolore (photographie de gauche ci-après). Après plusieurs heures, la solution se colore progressivement en bleu, et le fil de cuivre se recouvre d'un solide brillant déposé sous forme de « feuillage métallique », qui porte le nom d'« arbre de Diane » (photographie de droite ci-après).



État initial

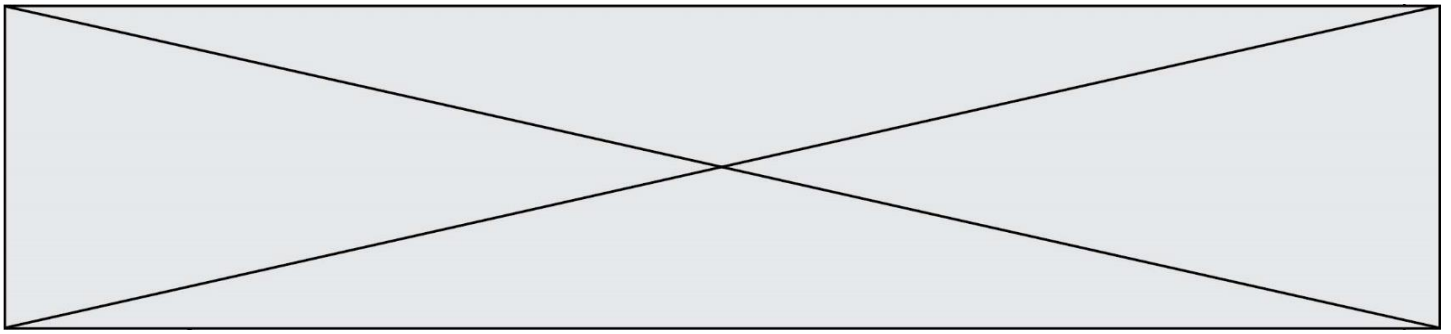


État final (après plusieurs heures)

- 2.1. Justifier qu'une transformation chimique a bien eu lieu.
- 2.2. Identifier les couples mis en jeu lors de la formation d'un arbre de Diane et écrire les deux demi-équations correspondantes.
- 2.3. En déduire que l'équation de la réaction modélisant la formation de l'arbre de Diane s'écrit : $2\text{Ag}^+(\text{aq}) + \text{Cu}(\text{s}) \rightarrow 2\text{Ag}(\text{s}) + \text{Cu}^{2+}(\text{aq})$
- 2.4. Avec la méthode de votre choix, montrer que le cuivre est en excès. La quantité initiale n d'ions argent sera prise égale à $2,2 \times 10^{-2} \text{ mol}$.
- 2.5. Avec la méthode de votre choix, déterminer la masse d'argent qui se forme sur le fil de cuivre si l'avancement maximal est atteint.

3. Prédiction de l'état final à l'aide d'un script en Python

Le programme suivant, écrit en langage Python, permet de calculer la masse d'argent déposée sur le fil de cuivre.



```
### Saisie des données initiales ###

m_cu = float(input("Masse du fil en g : "))
c = float(input("Concentration de la solution de nitrate d'argent en mol/L : "))
v = 0.001 * float(input("Volume de la solution en mL : "))

### Calcul des quantites initiales ###
n_cu = m_cu / 63.5
n_ag = c * v

### Quantité initiale minimale de cuivre ###
n_mini = n_ag / 2

### Verification du cuivre en exces ###
if n_cu < n_mini :
    print("La masse choisie pour le fil de cuivre est insuffisante.
          Le fil risque de casser avant que le système n'ait atteint
          son état final.")
else :
    ### Calcul de la masse d'argent depose ###
    m_agsolide = n_ag * 107.9
    print("La masse d'argent déposée vaut : ", m_agsolide, " g")
```

Ce programme permet aussi de s'assurer que le cuivre est bien introduit en excès : dans le cas contraire, le fil, qui joue aussi le rôle de support, risquerait de casser et l'on perdrait la végétation métallique qui met plusieurs heures à se former.

On exécute le programme. Tout d'abord on indique les conditions expérimentales initiales de l'expérience décrites précédemment. On obtient l'écran suivant :

```
Masse du fil en g : 5.6
Concentration de la solution de nitrate d'argent en mol/L : 0.1
Volume de la solution en mL : 220
```

Écrire la ligne qui apparaîtrait dans la console d'exécution à la suite de la saisie des données initiales ci-dessus. Justifier.

PARTIE B

Un modèle pour la balle de tennis pendant le service (10 points)

L'objet de l'exercice est de proposer un modèle pour l'étude du mouvement d'une balle de tennis.

Données :

- intensité de la pesanteur : $g = 9,8 \text{ N/kg}$;
- masse volumique de l'air à 20°C : $\rho = 1,0 \cdot 10^{-6} \text{ kg/cm}^3$;
- le diamètre des balles de tennis est en moyenne de 6,5 cm.

Modèle CCYC : ©DNE

Nom de famille (naissance) :

(Suivi s'il y a lieu, du nom d'usage)

Prénom(s) :

N° candidat : N° d'inscription :

(Les numéros figurent sur la convocation.)

Né(e) le : / /

 Liberté • Égalité • Fraternité
RÉPUBLIQUE FRANÇAISE

1.1

1. Modélisation de la chute verticale de la balle

Une balle, de masse $m = 55 \text{ g}$, est lâchée sans vitesse initiale. On filme ce mouvement de chute verticale et, à l'aide d'un logiciel adapté, on relève les positions successives de la balle. Un programme informatique permet de calculer les énergies cinétiques, potentielles de pesanteur et mécaniques de la balle à partir des relevés. L'origine du repère est prise au sol, et l'axe des altitudes est dirigé vers le haut. On note A la position initiale de la balle lorsqu'elle quitte la main de l'opérateur, et B son point d'impact, sur le sol.




Figure 1. Capture d'écran de la vidéo de la chute de la balle étudiée, et son repère de position

1.1. On identifie trois forces qui peuvent s'exercer sur la balle lors de son mouvement :

- le poids \vec{P} de la balle ;
- la force de frottement \vec{f} exercée par l'air sur la balle et qui dépend de la vitesse de la balle ;
- la poussée d'Archimède \vec{F}_A , indépendante de la vitesse de la balle, qui est exercée par l'air sur la balle, dirigée vers le haut et de valeur $F_A = \rho \cdot g \cdot V$, avec V le volume de la balle et ρ la masse volumique de l'air.

Représenter sur votre copie un schéma de la balle modélisée par un point en M, à un instant quelconque de son mouvement ainsi que les forces s'exerçant sur elle, sans souci d'échelle.

1.2. Comparer la valeur de la poussée d'Archimède au poids et en déduire que la poussée d'Archimède est négligeable devant le poids.

1.3. Parmi les trois séries de points reproduites sur la figure ci-après, identifier en justifiant la réponse :

- la série de points qui correspond aux mesures de l'énergie cinétique ;
- la série de points qui correspond aux mesures de l'énergie potentielle de pesanteur ;
- la série de points qui correspond aux mesures de l'énergie mécanique.

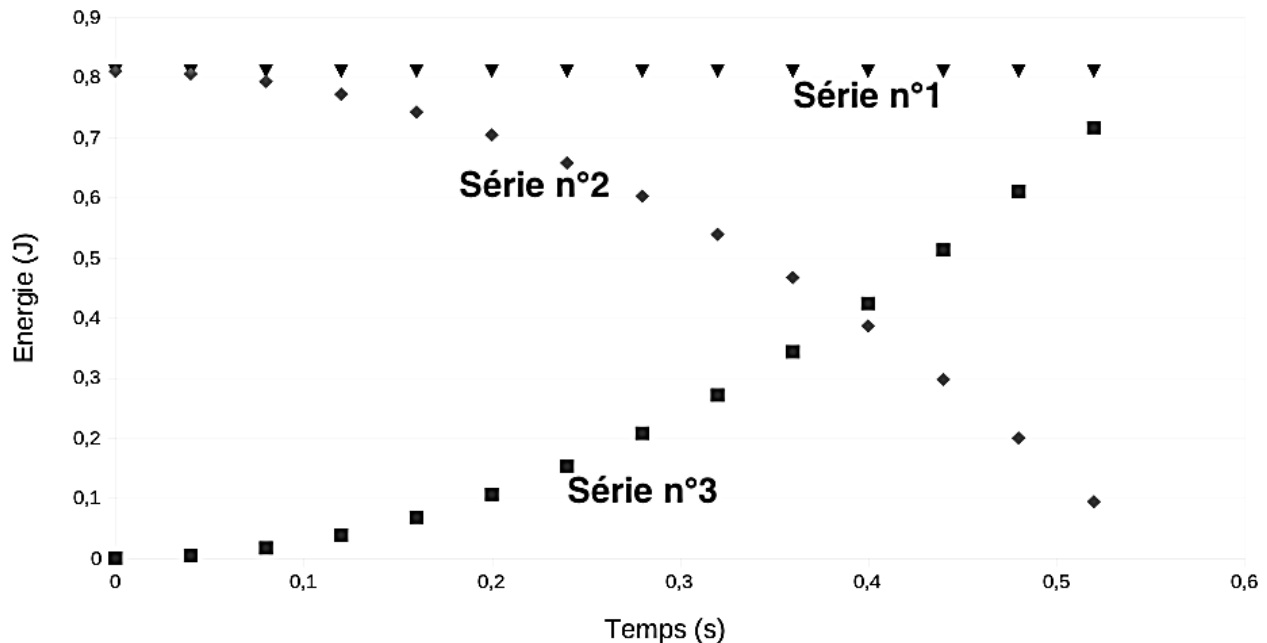
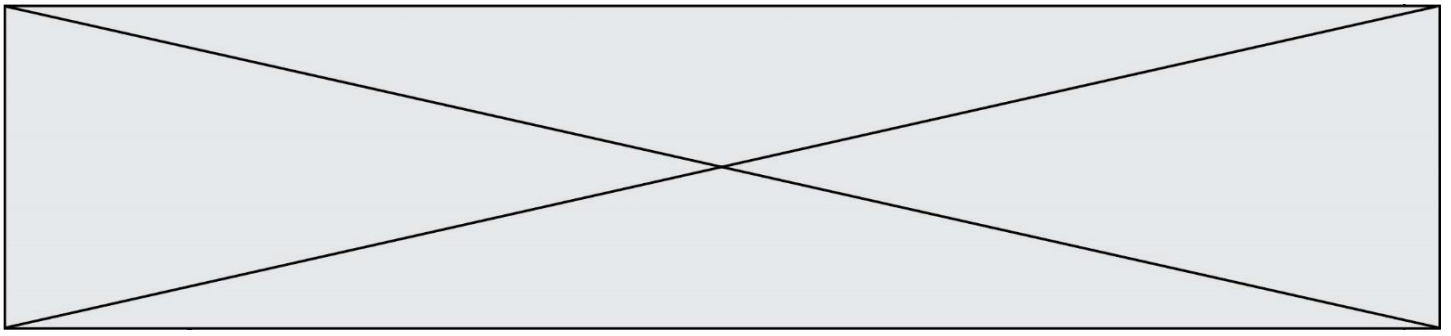


Figure 2. Évolution au cours du temps des énergies cinétique, potentielle de pesanteur et mécanique de la balle

1.4. À l'aide de ces courbes, justifier que l'on peut, dans cette étude, faire le choix de négliger les forces de frottement.

1.5. À quelle force est due la variation d'énergie cinétique observée ? Donner la valeur de son travail sur le trajet AB.

2. Modélisation du service au tennis

L'objectif de cette seconde partie est de vérifier si le modèle proposé dans la première partie convient aussi pour le mouvement de la balle lors du service, c'est-à-dire une fois qu'elle a quitté la raquette, venant d'être frappée par le joueur qui engage. Pour la suite de l'exercice, toutes les forces sont négligées, sauf le poids.

Figure 3. Joueuse de tennis au service, avant de frapper la balle (d'après <https://pixabay.com>).



La position initiale de la balle est notée C, lieu où le contact est rompu avec la raquette. La vitesse de la balle en C, supposée horizontale, est notée \vec{v}_C . Son altitude est notée z_C . Le

Modèle CCYC : ©DNE

Nom de famille (naissance) :

(Suivi s'il y a lieu, du nom d'usage)

Prénom(s) :

N° candidat : N° d'inscription :

(Les numéros figurent sur la convocation.)

Né(e) le : / /

Liberté • Égalité • Fraternité
RÉPUBLIQUE FRANÇAISE

1..1

schéma de la situation est représenté ci-dessous sans souci d'échelle. La balle atteint le sol au point D, à la vitesse de norme v_D et à la même altitude que l'origine du repère choisi.

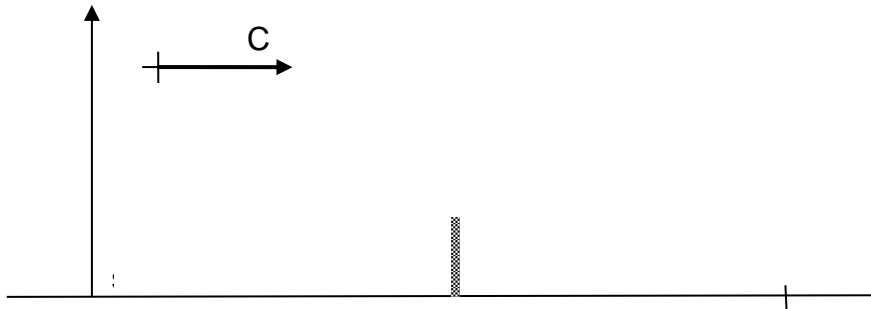


Figure 4. Schéma de la situation sans souci d'échelle

- 2.1. Reproduire la figure 4 et le compléter en représentant l'allure de la trajectoire de la balle lors du service.
- 2.2. Montrer à l'aide d'un théorème énergétique que, dans les conditions du modèle proposé dans la première partie, la vitesse au point d'impact s'écrit : $v_D = \sqrt{v_C^2 + 2 \cdot g \cdot z_C}$
- 2.3. Déterminer la valeur de v_D pour $z_C = 2,20$ m et $v_C = 200$ km.h⁻¹ pour ce modèle. Commenter.
- 2.4. Avec les valeurs initiales précédentes, la valeur de la vitesse v_{Dexp} effectivement mesurée au point D est de l'ordre de 100 km.h⁻¹. Proposer une hypothèse qui pourrait expliquer l'écart entre les valeurs de la vitesse mesurée et de celle déterminée avec le modèle précédent.