

ÉVALUATION COMMUNE 2020 physik.fr

CLASSE : Première

E3C : ☐ E3C1 ☒ E3C2 ☐ E3C3

VOIE : ☒ Générale

ENSEIGNEMENT : physique-chimie

DURÉE DE L'ÉPREUVE : 1 h

CALCULATRICE AUTORISÉE : ☒ Oui ☐ Non

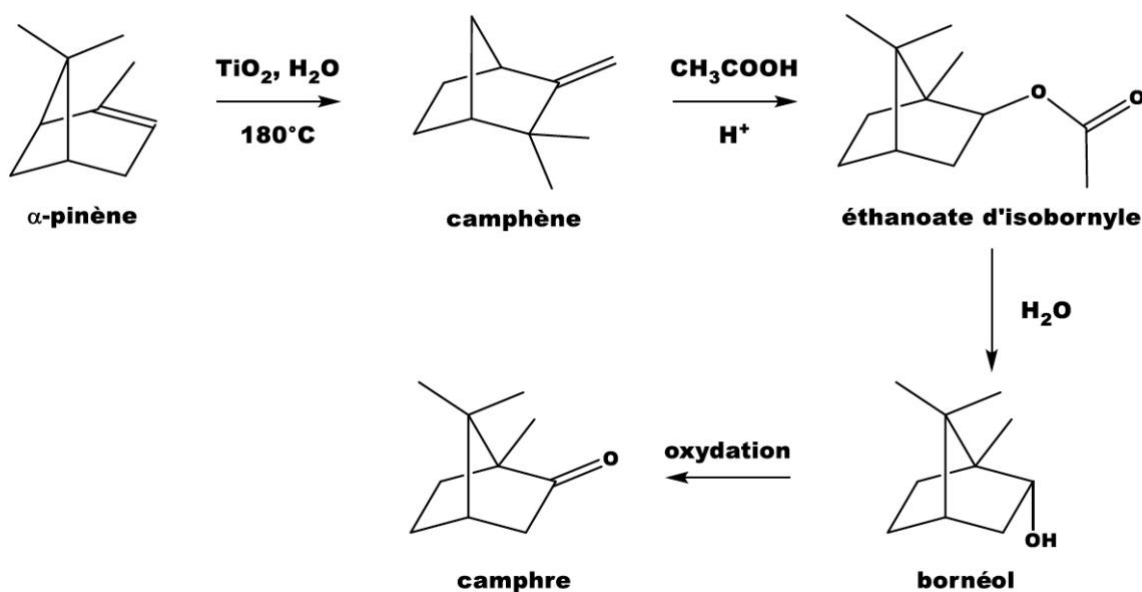
Synthèse du camphre au service du sportif (10 points)

Le baume du tigre® est un onguent issu de la pharmacopée chinoise dont la commercialisation remonte à la fin du XIX^{ème} siècle. En particulier, le baume du tigre rouge® est très utilisé pour soulager les douleurs musculo-squelettiques ; il est donc particulièrement apprécié des sportifs.



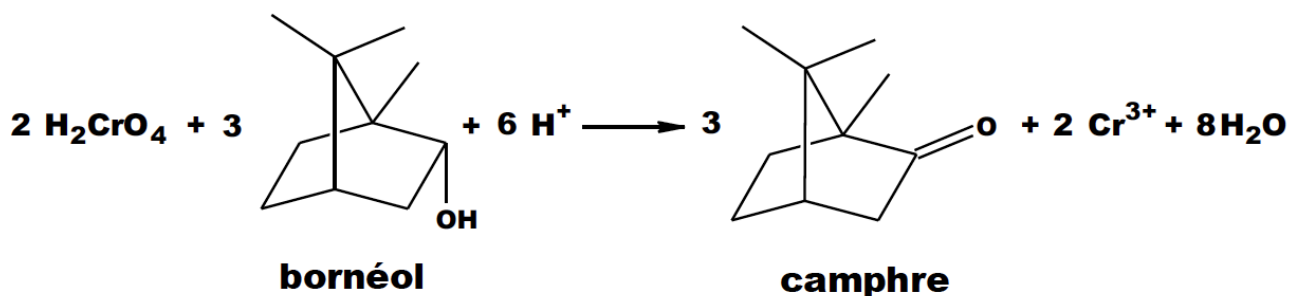
Le baume du tigre

Le camphre constitue le principal composant du baume du tigre®. Historiquement, le camphre était d'origine naturelle : le plus anciennement connu semble avoir été le camphre de Bornéo, fourni par un grand arbre de l'île de Sumatra en Indonésie. Actuellement, la majorité du camphre produit en France est obtenue par une synthèse multi-étapes à partir de l' α -pinène extrait de la résine de pin. Cette synthèse est présentée ci-dessous.



Cet exercice s'intéresse à la dernière étape qui permet de produire le camphre par oxydation du bornéol avec comme oxydant l'acide chromique (réactif de Jones) ;

La transformation chimique peut être modélisée par la réaction chimique d'équation :











Le protocole de cette étape ainsi que les données spécifiques à ce dernier, sont fournis ci-après.

Protocole de synthèse du camphre à partir du bornéol

- Étape 1** Dans un ballon bicol de 250 mL, placé dans un bain de glace, muni d'une agitation magnétique, d'un réfrigérant à eau et d'une ampoule de coulée, dissoudre 5,0 g de bornéol commercial dans 15 mL de propanone. Ajouter goutte à goutte 11,0 mL de solution d'acide chromique de concentration $C = 2,0 \text{ mol} \cdot \text{L}^{-1}$. Enlever le bain de glace et attendre que la température du mélange atteigne la température ambiante.
- Étape 2** Introduire le mélange dans une ampoule à décanter de 250 mL contenant 120 mL d'eau et ajouter 25 mL d'éther diéthylique. Agiter, décanter et séparer la phase organique. Traiter deux fois la phase aqueuse avec chaque fois 25 mL d'éther diéthylique.
- Étape 3** Regrouper et laver les phases organiques avec successivement 25 mL d'une solution saturée de chlorure de sodium ($\text{Na}^+_{(\text{aq})} + \text{Cl}^-_{(\text{aq})}$), 25 mL d'une solution saturée d'hydrogénocarbonate de sodium ($\text{Na}^+_{(\text{aq})} + \text{HCO}_3^-_{(\text{aq})}$) et 25 mL d'une solution saturée de chlorure de sodium. Recueillir la phase organique dans un erlenmeyer. Sécher sur sulfate de magnésium anhydre. Éliminer le solvant grâce à un montage de distillation simple. Verser le résidu du ballon dans bécher taré, refroidir et recueillir les cristaux obtenus, les sécher.
- Étape 4** Déterminer la masse puis réaliser le spectre infrarouge du solide obtenu.

Données

Données physico-chimiques relatives aux espèces chimiques mises en jeu dans ce protocole

Nom	Données physico-chimiques et pictogrammes	
Acide chromique H_2CrO_4	Solution aqueuse d'acide chromique	   
Propanone $\text{C}_3\text{H}_6\text{O}$	<ul style="list-style-type: none"> Température d'ébullition : 56 °C sous 1,013 hPa Densité : $d = 0,79$ Solvant organique miscible à l'eau et à l'éther diéthylique 	 
Éther diéthylique $\text{C}_4\text{H}_{10}\text{O}$	<ul style="list-style-type: none"> Température d'ébullition : 34 °C sous 1,013 hPa Densité : $d = 0,71$ Solvant organique très peu miscible à l'eau 	 

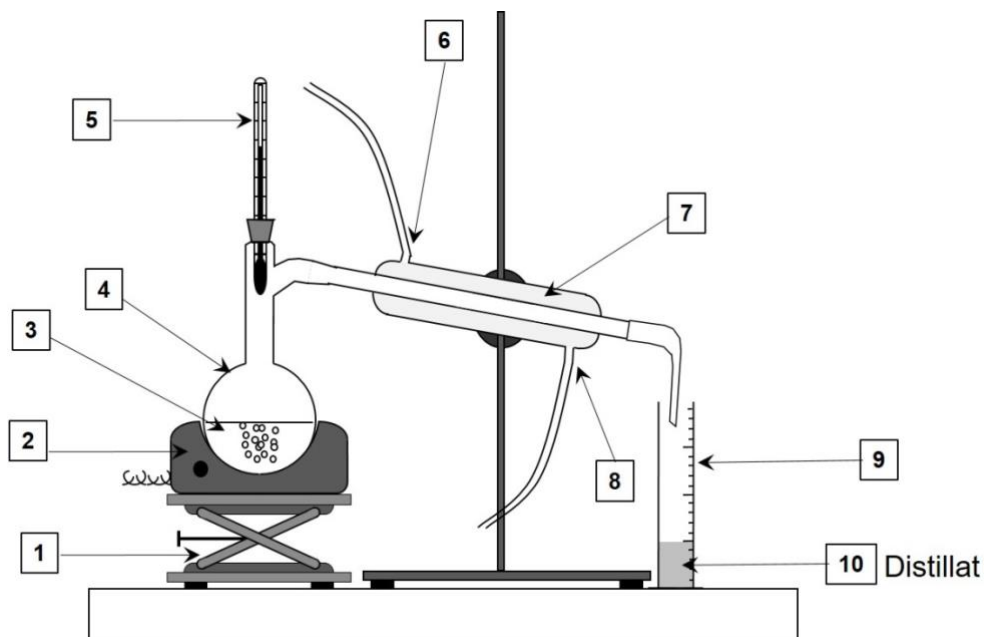
Bornéol $C_{10}H_{18}O$	<ul style="list-style-type: none"> • Masse molaire $M = 154,2 \text{ g}\cdot\text{mol}^{-1}$ • Température de fusion : $208 \text{ }^{\circ}\text{C}$ • Solubilité : presque insoluble dans l'eau ; très soluble dans l'éthanol ; soluble dans l'éther de pétrole, dans la propanone et l'éther diéthylique
Camphre $C_{10}H_{16}O$	<ul style="list-style-type: none"> • Masse molaire $M = 152,2 \text{ g}\cdot\text{mol}^{-1}$ • Température de fusion : $175 - 177 \text{ }^{\circ}\text{C}$ • Solubilité : peu soluble dans l'eau ; très soluble dans l'éthanol ; soluble dans l'éther diéthylique

Données de spectroscopie infrarouge :

Liaison	Nombre d'onde (cm^{-1})	Bande d'absorption
O-H libre	3580 - 3650	Bande forte et fine
O-H liée (pont hydrogène)	3100 - 3500	Bande forte et large
O-H (acide carboxylique)	2500 - 3300	Bande forte et large
$C_{\text{tri}}\text{-H}$ (C_{tri} : carbone trivalent)	3000 - 3100	Bande moyenne
$C_{\text{tet}}\text{-H}$ (C_{tet} : carbone tétravalent)	2800 - 3000	Bande forte
C-H de CHO (aldéhyde)	2650 - 2800	Bande moyenne
C=O (aldéhyde, cétone)	1650 - 1730	Bande forte
C=O (acide carboxylique)	1690 - 1760	Bande forte
C=C	1625 - 1685	Bande moyenne
$C_{\text{tet}}\text{-H}$	1415 - 1470	Bande forte
C-O	1050 - 1450	Bande forte

1. Indiquer, en justifiant, les précautions à prendre lors de cette étape de la synthèse.
2. Caractériser chacune des étapes du protocole en utilisant les termes suivants : analyse du produit synthétisé ; transformation des réactifs ; isolement du produit synthétisé.
3. Justifier l'utilisation de l'éther diéthylique dans l'étape 2 du protocole.

Le schéma du montage de distillation simple est donné ci-dessous.



4. Sans reproduire le schéma, indiquer sur votre copie chaque nombre de la légende ainsi que le terme associé. Préciser quelle(s) espèce(s) chimique(s) est(sont) présente(s) dans le distillat (**10**).
5. À l'aide des couples d'oxydo-réduction : $\text{H}_2\text{CrO}_4 / \text{Cr}^{3+}$ et camphre / bornéol, retrouver l'équation de la réaction de synthèse et justifier que le bornéol subit bien une oxydation.
6. Montrer que l'acide chromique et le bornéol ont été introduits dans les propositions stœchiométriques.
7. Montrer que la masse maximale de camphre que l'on peut former à l'issue de la synthèse vaut $m_{\text{théorique}} = 5,0 \text{ g}$.


Une synthèse réalisée au laboratoire en suivant ce protocole a permis d'obtenir 2,2 g de solide.

8. En supposant que le solide obtenu est du camphre pur, déterminer le rendement de cette synthèse.

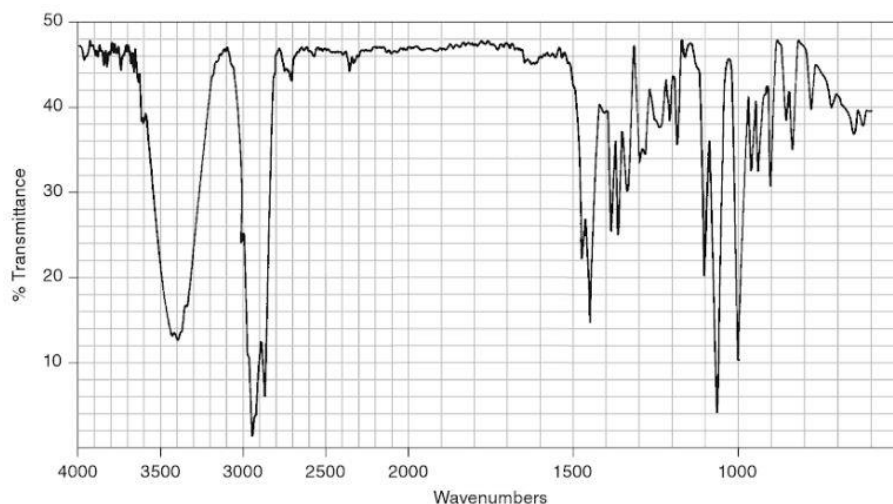
Lors de la synthèse au laboratoire, le technicien a réalisé une chromatographie sur couche mince. Il a noté sur son cahier de laboratoire : $R_f(\text{camphre}) = 0,52$ attendu dans les conditions de la CCM et il a reproduit ci-contre le chromatogramme obtenu après élution et révélation.

1. Prélèvement au début de la transformation
2. Prélèvement en cours de transformation
3. Prélèvement en fin de transformation

9. Analyser l'allure du chromatogramme obtenu et indiquer les informations qu'il fournit sur la synthèse.



Le spectre IR du bornéol commercial est fourni ci-dessous. Il représente la transmittance (en %) en fonction du nombre d'onde (wavenumbers en anglais) exprimé en cm^{-1} .



Donald L. Pavia, George S. Kriz, Gary M. Lampman, Randall G. Engel. A Small Scale Approach to Organic Laboratory Techniques, p. 256.

- 10.** Donner les principales modifications attendues sur le spectre IR du solide obtenu par rapport celui du bornéol si le solide est du camphre pur.